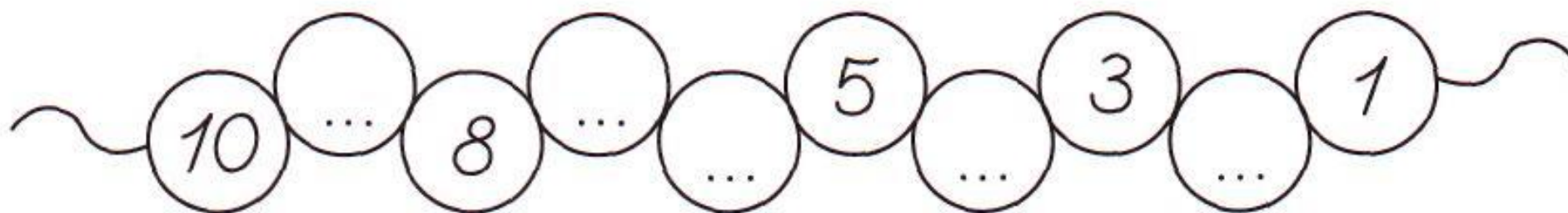

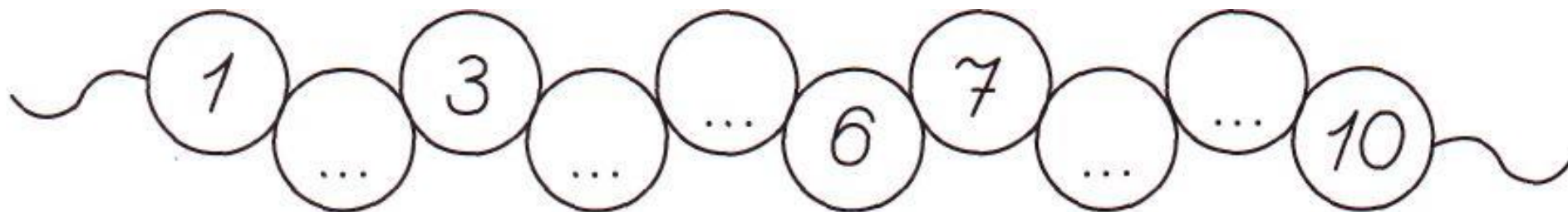


Вставь пропущенные цифры:



Реши примеры:

$4 + 1 = \square$

$8 - 3 = \square$

$4 + 3 - 5 = \square$

$4 + 2 = \square$

$8 - 4 = \square$

$9 - 1 - 2 = \square$

$4 + 3 = \square$

$8 - 5 = \square$

$2 + 3 + 4 = \square$

$4 + 4 = \square$

$8 - 6 = \square$

$8 - 5 + 1 = \square$

$4 + 5 = \square$

$8 - 7 = \square$

$3 - 2 + 6 = \square$

• Впиши в пустые кружки нужные числа.

