



МАТЕМАТИЧЕСКИЕ
СТУПЕНЬКИ

Е.В. Колесникова

Соответствует
ФГОС ДО


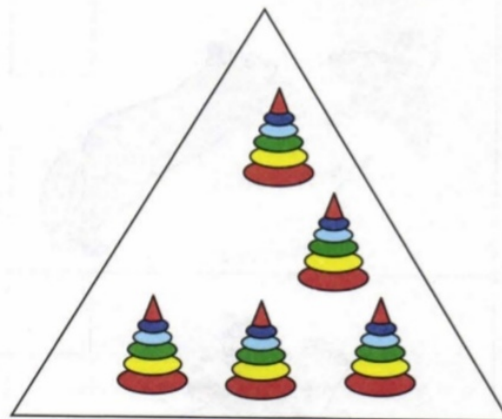


Я СЧИТАЮ ДО ПЯТИ

Математика для детей
4–5 лет



Занятие 26


- 1 Нарисуй в каждом прямоугольнике столько кружков, сколько пирамидок в квадрате, треугольнике.




- 2 Обведи по точкам цифру, обозначающую количество утят на картинке.



2 3 5 4



3 Соедини чашки с блюдцами так, чтобы они подходили друг другу по размеру.



4 Дорисуй недостающие фигуры в пустых прямоугольниках.

